

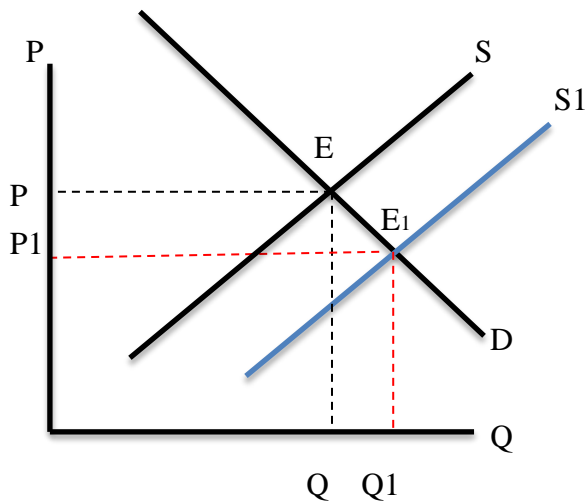
Ch2 供給與需求之均衡

以供需圖說明下列事件如何影響對應的特定市場之均衡點。

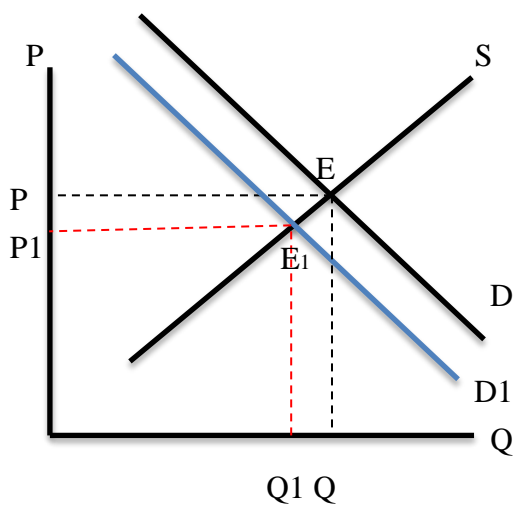
| 事件 | 市場 |
|---------------------|--------------------|
| 1. 開放蘋果進口 | A. 蘋果市場 B. 梨子市場 |
| 2. 電子技術進步,同時消費者所得提高 | 個人電腦市場 |
| 3. 颱風損壞農作物 | A. 蔬菜市場 B. 豬肉市場 |

1. 開放蘋果進口

A 蘋果市場：供給增加

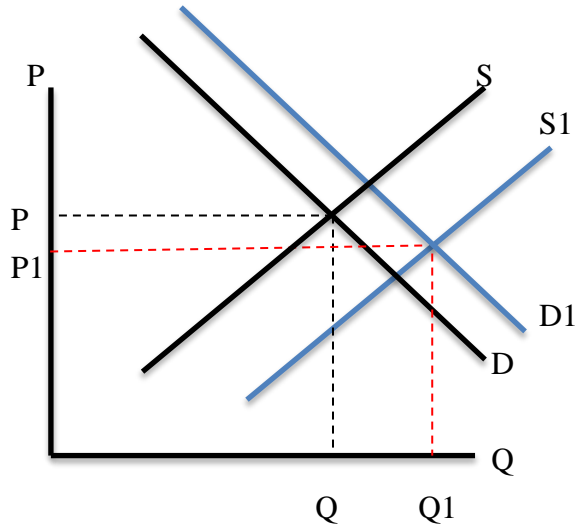


B 梨子市場：需求減少

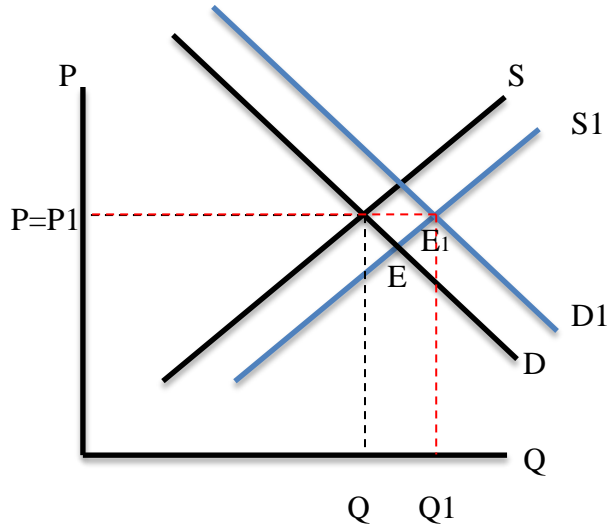


2. 電子技術進步,同時消費者所得提高

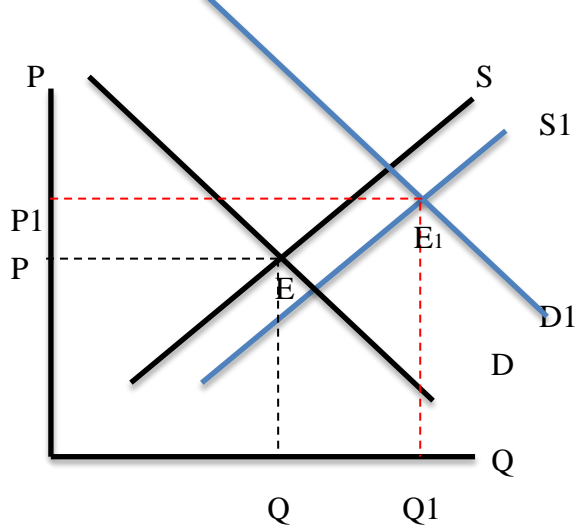
供給增加 > 需求增加



供給增加 = 需求增加

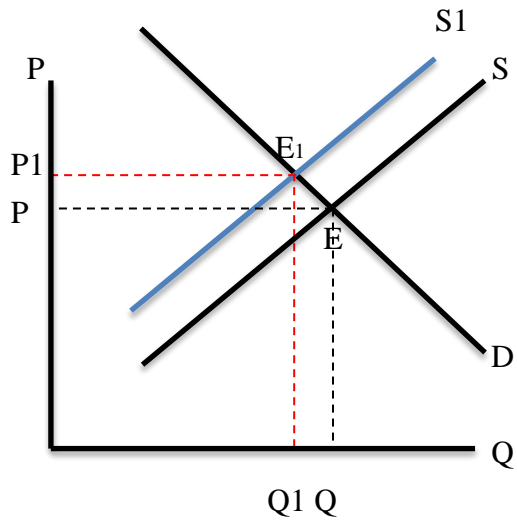


供給增加 < 需求增加



3. 颱風損壞農作物

A 蔬菜市場：供給減少



A 豬肉市場：需求增加

